


1 Kilogramm = 1000 Gramm  
1 kg = 1000 g

1

Alle diese Gegenstände wiegen ungefähr 1 kg.

- Ein Gegenstand ist zu leicht. Umkreise ihn mit rot.
- Ein Gegenstand ist zu schwer. Umkreise ihn mit blau.



2

Alle diese Gegenstände wiegen ungefähr 100 g.

- Ein Gegenstand ist zu leicht. Umkreise ihn mit rot.
- Ein Gegenstand ist zu schwer. Umkreise ihn mit blau.



3

Ordne dem Gewicht nach. Beginne mit dem leichtesten Gegenstand. Nummeriere.

Fahrrad

Auto

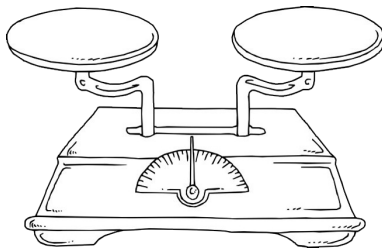
Pfanne

Bleistift

# Gewichte ergänzen

Name: \_\_\_\_\_

$$1 \text{ Kilogramm} = 1000 \text{ Gramm}$$
$$1 \text{ kg} = 1000 \text{ g}$$



Ergänze

100 g	
45 g	
62 g	
12 g	
5 g	

300 g	
120 g	
39 g	
297 g	
190 g	

600 g	
471 g	
23 g	
503 g	
154 g	

450 g	
425 g	
318 g	
200 g	
8 g	

1 kg	
400 g	
430 g	
432 g	
32 g	

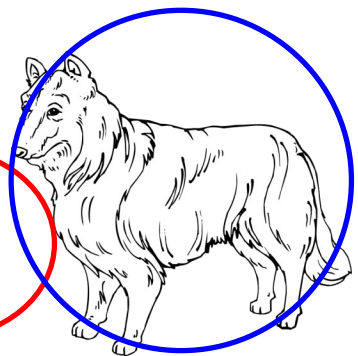

1 kg	
289 g	
539 g	
703 g	
1 g	

$$1 \text{ Kilogramm} = 1000 \text{ Gramm}$$
$$1 \text{ kg} = 1000 \text{ g}$$

1

Alle diese Gegenstände wiegen ungefähr 1 kg.

- Ein Gegenstand ist zu leicht. Umkreise ihn mit rot.
- Ein Gegenstand ist zu schwer. Umkreise ihn mit blau.



2

Alle diese Gegenstände wiegen ungefähr 100 g.

- Ein Gegenstand ist zu leicht. Umkreise ihn mit rot.
- Ein Gegenstand ist zu schwer. Umkreise ihn mit blau.



3

Ordne dem Gewicht nach. Beginne mit dem leichtesten Gegenstand. Nummeriere.

3 Fahrrad

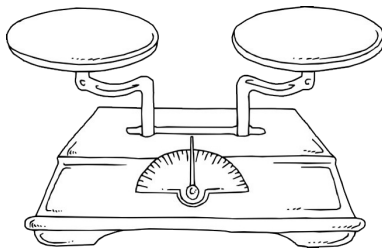
4 Auto

2 Pfanne

1 Bleistift

$$1 \text{ Kilogramm} = 1000 \text{ Gramm}$$

$$1 \text{ kg} = 1000 \text{ g}$$



Ergänze

100 g	
45 g	55 g
62 g	38 g
12 g	88 g
5 g	95 g

300 g	
120 g	180 g
39 g	261 g
297 g	3 g
190 g	110 g

600 g	
471 g	129 g
23 g	577 g
503 g	97 g
154 g	446 g

450 g	
425 g	25 g
318 g	132 g
200 g	250 g
8 g	442 g

1 kg	
400 g	600 g
430 g	570 g
432 g	568 g
32 g	968 g

1 kg	
289 g	711 g
539 g	461 g
703 g	297 g
1 g	999 g