


Aufteilen und verteilen




Verteile die Erdbeeren gerecht an die Kinder.



R e c h n u n g :																					
J e d e s		K i n d		b e k o m m t						E r d b e e r e n .											

Verteile die Erdbeeren gerecht an die Kinder.




R e c h n u n g :																					
J e d e s		K i n d		b e k o m m t						H i m b e e r e n .											

Lösung: Aufteilen und verteilen




Verteile die Erdbeeren gerecht an die Kinder.



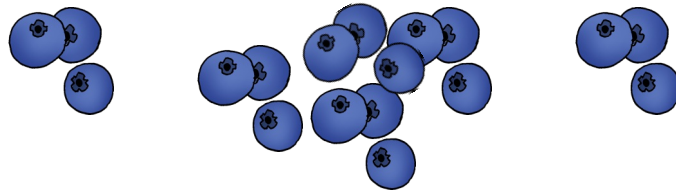
R	e	c	h	n	u	n	g	:	1	0	:	2	=	5															
J	e	d	e	s	K	i	n	d	b	e	k	o	m	m	t	5	E	r	d	b	e	e	r	e	n	.			

Verteile die Erdbeeren gerecht an die Kinder.



R	e	c	h	n	u	n	g	:	1	5	:	3	=	5															
J	e	d	e	s	K	i	n	d	b	e	k	o	m	m	t	5	H	i	m	b	e	e	r	e	n	.			

Verteile Heidelbeeren und rechne aus.



Verteile 18 Heidelbeeren an 9 Kinder.

$18 : 9 = \underline{\quad}$ Jedes Kind bekommt Heidelbeeren.

Verteile 49 Heidelbeeren an 7 Kinder.

$49 : 7 = \underline{\quad}$ Jedes Kind bekommt Heidelbeeren.

Verteile 6 Heidelbeeren an 2 Kinder.

$6 : 2 = \underline{\quad}$ Jedes Kind bekommt Heidelbeeren.

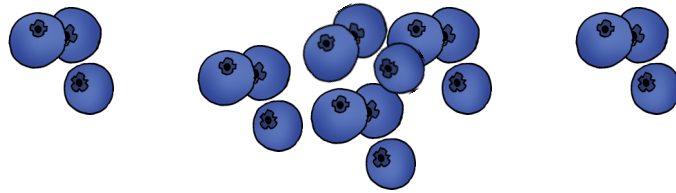
Verteile 100 Heidelbeeren an 10 Kinder.

$100 : 10 = \underline{\quad}$ Jedes Kind bekommt Heidelbeeren.

Verteile 42 Heidelbeeren an 6 Kinder.

$42 : 6 = \underline{\quad}$ Jedes Kind bekommt Heidelbeeren.

Lösung: Verteile Heidelbeeren und rechne aus.



Verteile 18 Heidelbeeren an 9 Kinder.

$18 : 9 = 2$ Jedes Kind bekommt 2 Heidelbeeren.

Verteile 49 Heidelbeeren an 7 Kinder.

$49 : 7 = 7$ Jedes Kind bekommt 7 Heidelbeeren.

Verteile 6 Heidelbeeren an 2 Kinder.

$6 : 2 = 3$ Jedes Kind bekommt 3 Heidelbeeren.

Verteile 100 Heidelbeeren an 10 Kinder.

$100 : 10 = 10$ Jedes Kind bekommt 10 Heidelbeeren.


Verteile 42 Heidelbeeren an 6 Kinder.

$42 : 6 = 7$ Jedes Kind bekommt 7 Heidelbeeren.



In jeden Korb werden gleich viele Äpfel gelegt.

Wie viele Körbe braucht es?



Du hast 24 Äpfel. In jeden Korb kommen 6 Äpfel.

$$24 : 6 = \underline{\quad}$$

Es braucht Körbe.

Du hast 10 Äpfel. In jeden Korb kommen 2 Äpfel.

$$10 : 2 = \underline{\quad}$$

Es braucht Körbe.

Du hast 12 Äpfel. In jeden Korb kommen 3 Äpfel.

$$12 : 3 = \underline{\quad}$$

Es braucht Körbe.

Du hast 81 Äpfel. In jeden Korb kommen 8 Äpfel.


$$81 : 8 = \underline{\quad}$$

Es braucht Körbe.



In jeden Korb werden gleich viele Äpfel gelegt.

Wie viele Körbe braucht es?



Du hast 24 Äpfel. In jeden Korb kommen 6 Äpfel.

$24 : 6 = 4$ Es braucht 4 Körbe.

Du hast 10 Äpfel. In jeden Korb kommen 2 Äpfel.

$10 : 2 = 5$ Es braucht 5 Körbe.

Du hast 12 Äpfel. In jeden Korb kommen 3 Äpfel.

$12 : 3 = 4$ Es braucht 4 Körbe.

Du hast 81 Äpfel. In jeden Korb kommen 8 Äpfel.

$81 : 8 = 8$ Es braucht 8 Körbe.