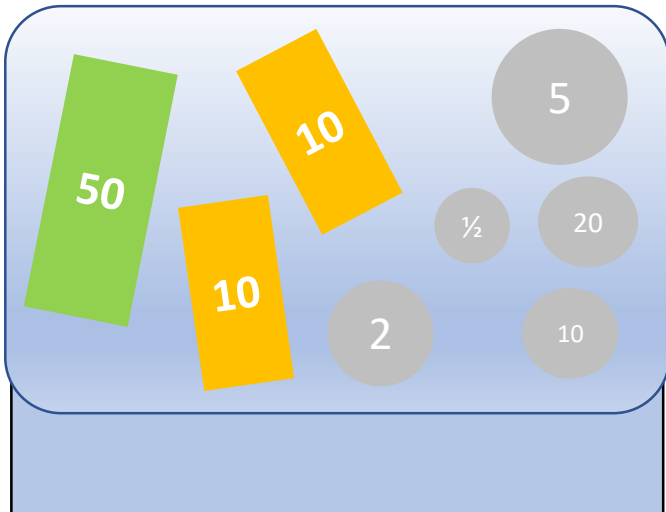


Einkaufen

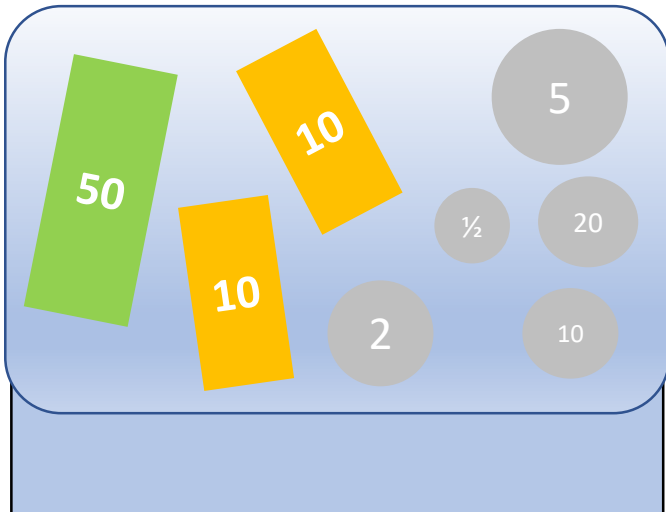


Das ist Tills Portemonnaie.
Damit geht er einkaufen.

Wie viel Geld hat Till im
Portemonnaie?

So viel kostet es.	Mit diesen Noten und Münzen bezahlt Till.	Diese Noten und Münzen bekommt Till zurück
23 Fr. 50 Rp.		
66 Fr. 90 Rp.		
9 Fr. 80 Rp.		
45 Fr. 50 Rp.		
74 Fr. 95 Rp.		

Lösungsvorschlag: Einkaufen



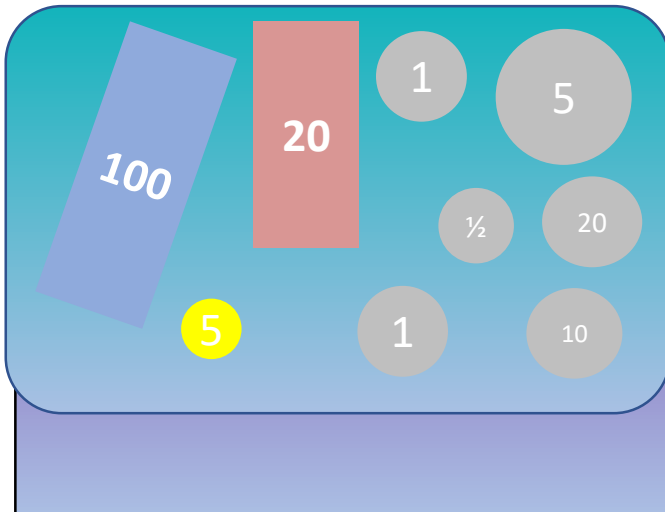
Das ist Tills Portemonnaie.
Damit geht er einkaufen.

Wie viel Geld hat Till im
Portemonnaie?

77 Fr. 80 Rp.

So viel kostet es.	Mit diesen Noten und Münzen bezahlt Till.	Diese Noten und Münzen bekommt Till zurück
23 Fr. 50 Rp.		
66 Fr. 90 Rp.		
9 Fr. 80 Rp.		
45 Fr. 50 Rp.		
74 Fr. 95 Rp.		

Einkaufen

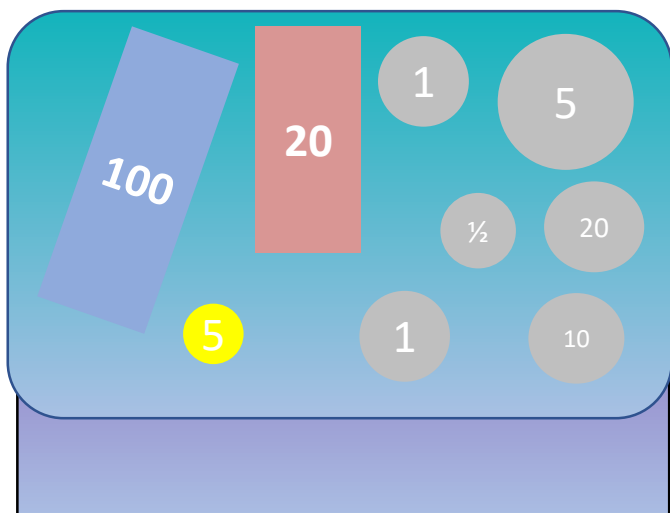


Das ist Lauras Portemonnaie.
Damit geht sie einkaufen.

Wie viel Geld hat Laura im
Portemonnaie?

So viel kostet es.	Mit diesen Noten und Münzen bezahlt Laura.	Diese Noten und Münzen bekommt Laura zurück
103 Fr. 55 Rp.		
78 Fr.		
115 Fr. 95 Rp.		
45 Fr. 55 Rp.		
99 Fr. 95 Rp.		

Lösungsvorschlag: Einkaufen



Das ist Lauras Portemonnaie.
Damit geht sie einkaufen.

Wie viel Geld hat Laura im
Portemonnaie?

127 Fr. 85 Rp.

So viel kostet es.	Mit diesen Noten und Münzen bezahlt Laura.	Diese Noten und Münzen bekommt Laura zurück
103 Fr. 55 Rp.		
78 Fr.		
115 Fr. 95 Rp.		
45 Fr. 55 Rp.		
99 Fr. 95 Rp.		

Einkaufen



Das ist Frau Peters Portemonnaie.
Damit geht sie einkaufen.

Wie viel Geld hat Frau Peter im
Portemonnaie?

So viel kostet es.	Mit diesen Noten und Münzen bezahlt Frau Peter.	Diese Noten und Münzen bekommt Frau Peter zurück.
333 Fr. 35 Rp.		
164 Fr. 45 Rp.		
239 Fr. 75 Rp.		
518 Fr. 40 Rp.		
387 Fr. 5 Rp.		

Lösungsvorschlag: Einkaufen



Das ist Frau Peters Portemonnaie.
Damit geht sie einkaufen.

Wie viel Geld hat Frau Peter im Portemonnaie?

522 Fr. 85 Rp.

So viel kostet es.	Mit diesen Noten und Münzen bezahlt Frau Peter.	Diese Noten und Münzen bekommt Frau Peter zurück.
333 Fr. 35 Rp.		
164 Fr. 45 Rp.		
239 Fr. 75 Rp.		
518 Fr. 40 Rp.		
387 Fr. 5 Rp.		